

Test sprawdzający 3

Bezpieczeństwo

Grupa I

1. (1 pkt) Określ, na jaki problem zwraca uwagę autor rysunku satyrycznego.



Na podstawie: www.zbirek3wp.pl

2. (1 pkt) Podkreśl prawidłową odpowiedź.

Prokurator Generalny powoływany jest przez:

- A. Sejm.
- B. Senat za zgodą Sejmu.
- C. Prezydenta RP.
- D. Sejm za zgodą Prezydenta RP.

3. (3 pkt) Podaj pełne nazwy służb.

ABW –

CBS –

CBA –

4. (2 pkt) Uzupełnij zdania.

Na czele Policji stoi (a), który jest przełożonym wszystkich funkcjonariuszy. Podlega on (b)

5. (3 pkt) Spośród uprawnień przysługujących Policji i Straży Miejskiej podkreśl trzy, które przysługują tylko policji.

- A. Legitymowanie osób w celu ustalenia ich tożsamości
- B. Pobieranie od osób wymazu ze śluzówki policzków

- C. Dokonywanie kontroli osobistej, a także przeglądania zawartości bagaży
- D. Dokonywanie czynności wyjaśniających, kierowanie wniosków o ukaranie do sądu
- E. Obserwowania i rejestrowania obrazu zdarzeń w miejscach publicznych
- F. Dokonywanie kontroli paliwa przez pobieranie próbek paliwa ze zbiornika pojazdu mechanicznego

6. (1 pkt) Nazwij zagrożenie związane z nieletnimi przedstawione na rysunku. Określ jego rodzaj.

Plakat z kampanii społecznej

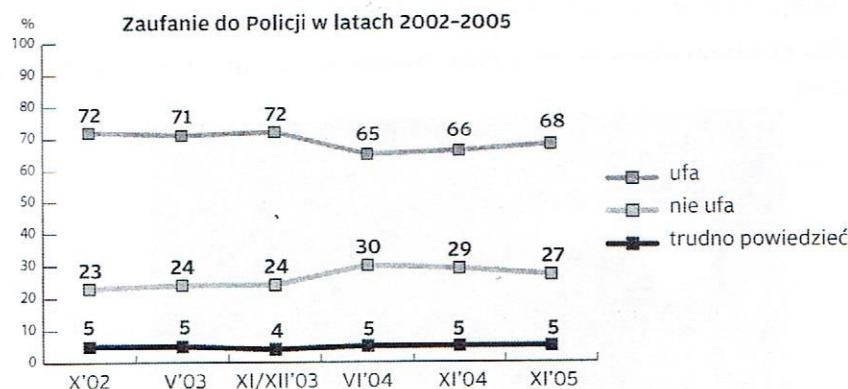


7. (3 pkt) Rozstrzygnij, które zdania są prawdziwe, a które fałszywe. Wpisz w odpowiednie miejsca w tabeli „prawda” lub „fałsz”.

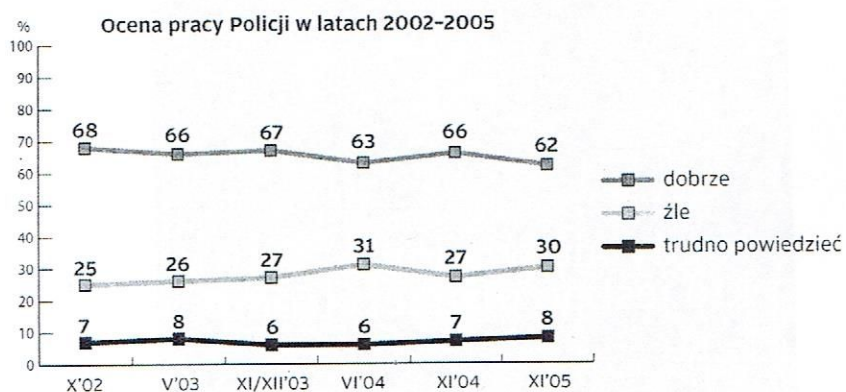
Lp.	Zdanie	Prawda lub fałsz
1.	Policja ma prawo wylegitymować obywatela, który ma obowiązek noszenia przy sobie dowodu osobistego.	
2.	Tymczasowe aresztowanie może nastąpić w wyniku decyzji Policji, wobec osób podejrzanych o popełnienie wykroczenia z kodeksu karnego.	
3.	Zatrzymanie stosuje się wobec osoby podejrzanej o popełnienie przestępstwa i może trwać maksymalnie do 72 godzin.	

8. (2 pkt) Zapoznaj się z wykresami i wykonaj polecenia.

Wykres 1



Wykres 2



Źródło: Komenda Główna Policji

a) Wskaż zależność pomiędzy oceną pracy policjantów a zaufaniem do policji w latach 2002–2004. Wykorzystaj dane źródłowe.

.....

.....

.....

b) Wskaż okres, w którym dobra ocena pracy policji wzrasta, przy jednoczesnym wzroście opinii negatywnych.

.....

9. (4 pkt) Do podanych opisów działalności organizacji dopisz ich pełne nazwy.

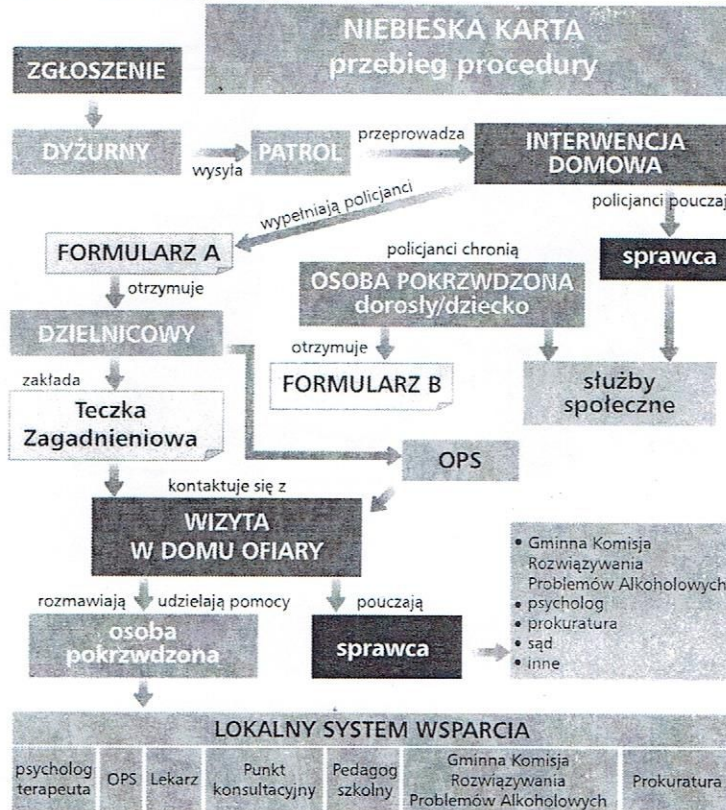
Opis działalności organizacji pozarządowej	Pełna nazwa organizacji
1. Działa w ramach międzynarodowych sieci organizacji pozarządowych. Celem jej jest przeciwdziałanie różnym formom handlu ludźmi, niewolnictwu i pracy przymusowej oraz prostytucji.	
2. Zajmuje się ochroną dzieci oraz pomocą dzieciom pokrzywdzonym, ich rodzicom i opiekunom. Prowadzi również program na rzecz dzieci-ofiar handlu i dzieci cudzoziemców pozostawionych bez opieki.	
3. Organizacja pozarządowa świadcząca bezpłatną pomoc prawną ubogim, ofiarom przemocy oraz grupom zagrożonym wykluczeniem społecznym.	

Opis działalności organizacji pozarządowej

Pełna nazwa organizacji

4. Organizacja pozarządowa prowadząca serwis zawierający bazę osób zaginionych.

10. (4 pkt) Na podstawie schematu przedstawiającego procedurę Niebieskiej Karty wymień 4 obowiązki, jakie spoczywają na policjantach wobec osób pokrzywdzonych.



Zgłoszenie → Interwencja → Przejęcie przypadku przez dzielnicowego → Współpraca z pomocą społeczną → Przekazanie sprawy do lokalnego systemu wsparcia.

11. (2 pkt) Wyjaśnij, czym różni się zakład poprawczy od schroniska dla nieletnich. Wymień 2 różnice.

12. (12 pkt) Napisz artykuł, w którym przedstawisz problem przestępczości wśród nieletnich. Omów przyczyny tego zjawiska oraz przedstaw skutki społeczne, polityczne. Zaproponuj działania, jakie może podjąć społeczność lokalna, aby przeciwdziałać przestępczości nieletnich.