

TEST Z HISTORII I SPOŁECZEŃSTWA DLA SEM. III LO

1. W średniowieczu wykształciły się osady, które wytwarzały towary na potrzeby dworu. Ślady tych wiosek pozostały do dzisiaj, informując nas czym zajmowali się ich mieszkańcy przed wiekami. Co wytwarzane było w Grotnikach?

Przedmioty ze złota i innych metali szlachetnych.

Drewniane tarcze.

Żelazne groty do strzał i włócznie.

Piwo i miód pitny.

2. Za panowania, którego władcy ukształtowała się w Polsce monarchia stanowa?

Kazimierza Wielkiego.

Bolesława Chrobrego.

Władysława Jagiełły.

Jana Olbrachta

3. Wymień dwóch ostatnich władców Polski z dynastii piastowskiej.

-
-

4. Połącz terminy z ich wyjaśnieniami.

princeps •
haracz •
krucjata •
starosta •


- wyprawa do Ziemi Świętej w celu wyzwolenia jej z rąk muzułmanów
- namiestnik króla sprawujący władzę w prowincjach
- zwierzchnik księstw polskich w czasie rozbitcia dzielnicowego
- okup regularnie płacony chanom mongolski

5. Rozbitcie dzielnicowe w Polsce trwało


- A. od XI do XIV w.
- B. od XII do XIV w.
- C. od X do XV w.
- D. od XIII do XIV w.

6. Ilustracje przedstawiające przykłady architektury rzymskiej oznaczono numerami

- A. 1. i 4.
- B. 3. i 4.
- C. 2. i 3.
- D. 1. i 2.
- A.



B.



C.




D.

7. Szereg, w którym uporządkowano chronologicznie przemiany w życiu społecznym, to:

- A. koczownictwo → narodziny rolnictwa → powstanie państwa.
 - B. powstanie państwa → narodziny rolnictwa → koczownictwo.
 - C. narodziny rolnictwa → koczownictwo → powstanie państwa.
 - D. narodziny rolnictwa → powstanie państwa → koczownictwo
-

8.



Kolumna składa się z kilku części. Zaznacz prawidłową odpowiedź:

- a. baza, kapitel, fryz
- b. baza, trzon, kapitel
- c. kapitel, fryz, tympanon

9. Grecy rzeźbiarze stworzyli wiele posągów bogów, bohaterów i sportowców. W jakim materiale wykonywali te rzeźby?:

- a. granit
 - b. brąz
 - c. marmur
-

10. Grecy budowali wspaniałe obiekty architektoniczne: Wybierz prawidłowe:

- a. stadiony, teatry, świątynie
- b. teatry, stadiony, bazyliki
- c. termy, stadiony, bazyliki
- d. gimnazjony, teatry, świątynie

11. Wskaż, jaki porządek architektoniczny występuje w kolumnach na zamieszczonych ilustracjach:

- a. dorycki
- b. joński
- c. koryncki



12. Co to znaczy "prehistoria"

przed-historia, czasy, gdy jeszcze nie było państw

dawna historia, czasy, gdy ludzie budowali piramidy
stara historia, czasy, gdy żyli nasi pradziadkowie
historia, która dopiero będzie

13. Jakie formy plastyczne tworzyli ludzie epok prehistorycznych

rysunki ryte w kamieniu
rysunki na piasku
malowidła naścienne
proste rzeźby

14. Na czym rysowali i malowali ludzie epok prehistorycznych

na kartonie
na płótnie
na desce
na ścianach jaskiń

15. Co było tematem prac malarskich ludzi 20 tys. lat temu

lasy i przyroda
martwa natura
zwierzęta
krajobrazy

16. Co oznaczała nazwa - "romański"

wzorowanie się na starożytnym Rzymie
uwielbienie imienia Roman
od władcy Kazimierza Romanowskiego
kulturę cygańską

17. Obowiązujące w średniowieczu style w architekturze i sztuce to:

A) styl gotycki
B) styl romański
C) styl romański i gotyki

18. Rozeta to:

a) Kolisty otwór w suficie

-
- b) Kolisty otwór ścienny typowy dla architektury romańskiej
 - c) Kolisty otwór umieszczony w drzwiach

19. Sklepienie kościoła romańskiego to sklepieni:

- a) Krzyżowo – żebrowe
- b) Kolebkowe
- c) Krzyżowe

20. Dopasuj nazwę stylu gotycki lub romański do zdań;

- a) Styl architektury i plastyki okresu dojrzałego i późnego średniowiecza
- b) Wzniesione w tym stylu budowle charakteryzują się prostą geometrią, masywną a bryłą i małymi oknami
- c) Wielkie budowle sakralne tego stylu sięgały „niemał Boga”
- d) Styl w sztuce europejskiej, który opanował początkową fazę średniowiecza